

Kannst du Brüche beschriften?

Ein Bruch zeigt, in wie viele Teile ein Ganzes aufgeteilt wird und wie viele Teile davon "ausgewählt" werden.

Oben steht der sogenannte **ZÄHLER** und unten der **NENNER**.

$$\frac{1}{4}$$

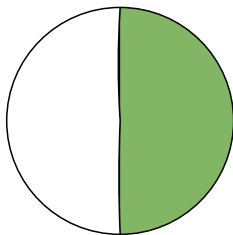
Hier liest du, wie viele Teile "ausgewählt" wurden.

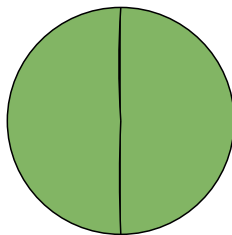
Hier liest du, dass ein Ganzes in vier Teile aufgeteilt wurde.



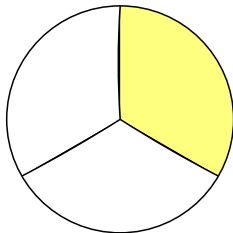
Man spricht: "ein Viertel"

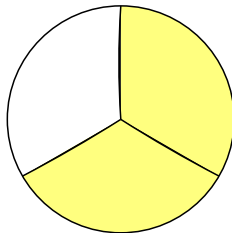
Ein Ganzes ist in vier Teile aufgeteilt und ein Teil wurde ausgewählt

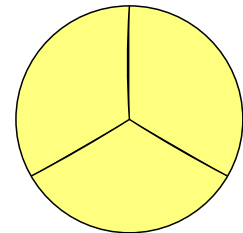


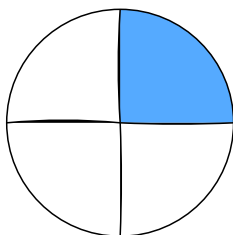


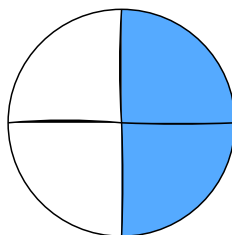
Überlege:
Wie viele Teile sind es insgesamt?
Wie viele davon sind ausgewählt/angemalt?

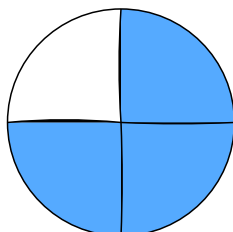


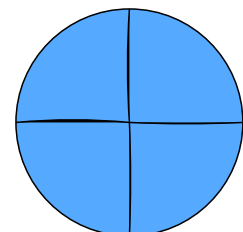




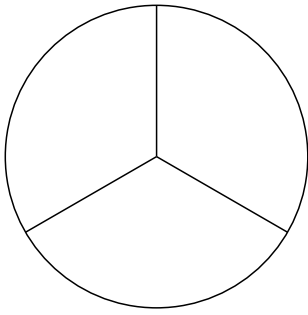




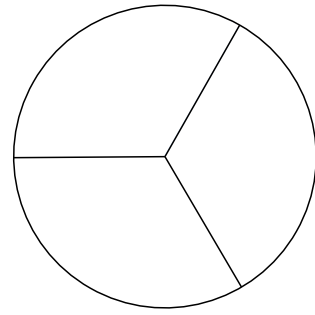




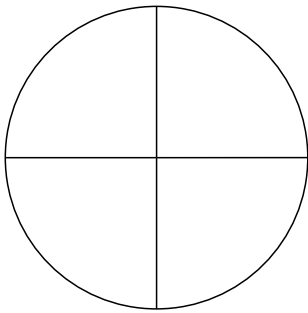
Kannst du Brüche richtig einfärben?



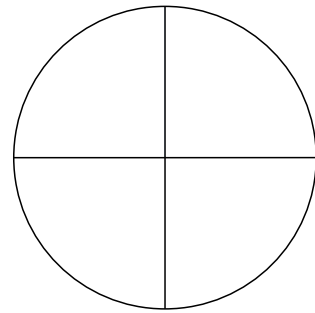
$\frac{2}{3}$




$\frac{1}{3}$



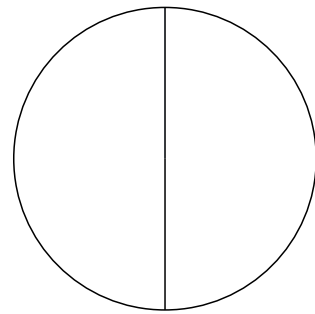
$\frac{3}{4}$



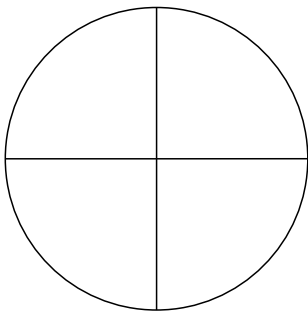
$\frac{2}{4}$



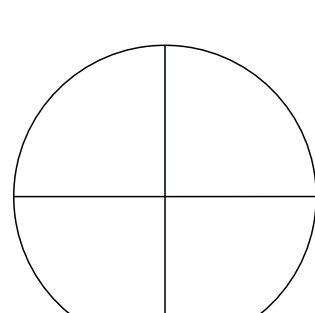
$\frac{1}{2}$



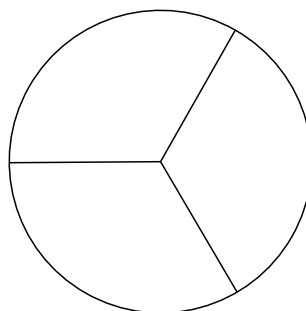
$\frac{2}{2}$



$\frac{1}{4}$



$\frac{4}{4}$



$\frac{3}{3}$