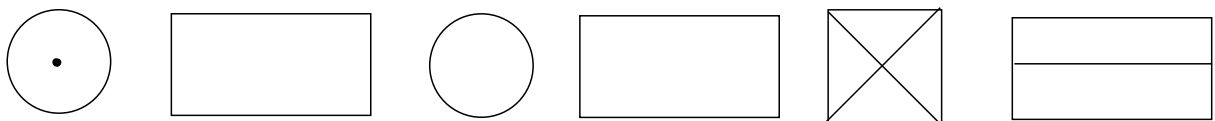
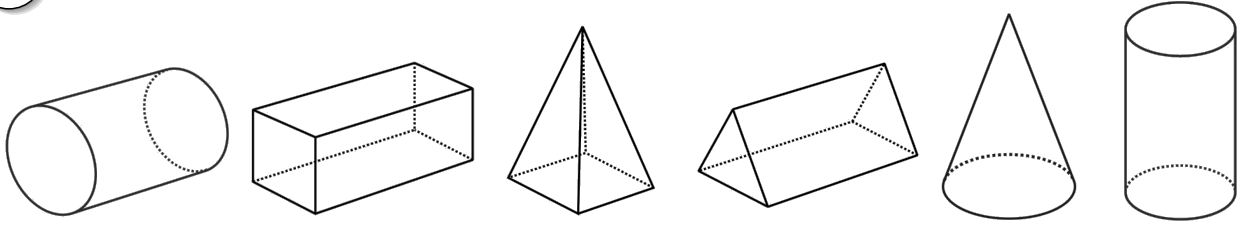
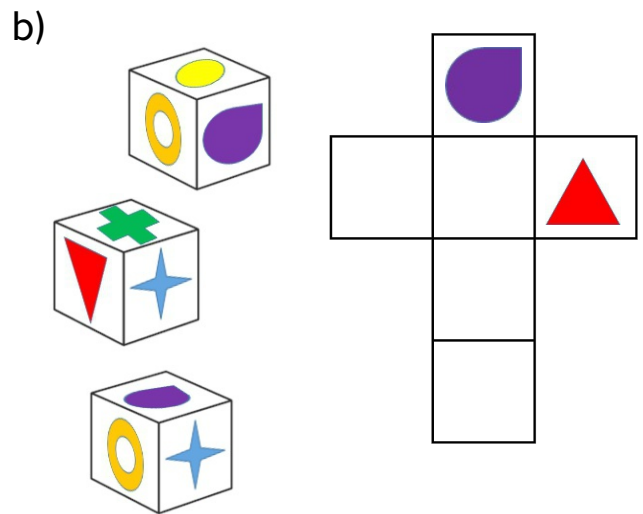
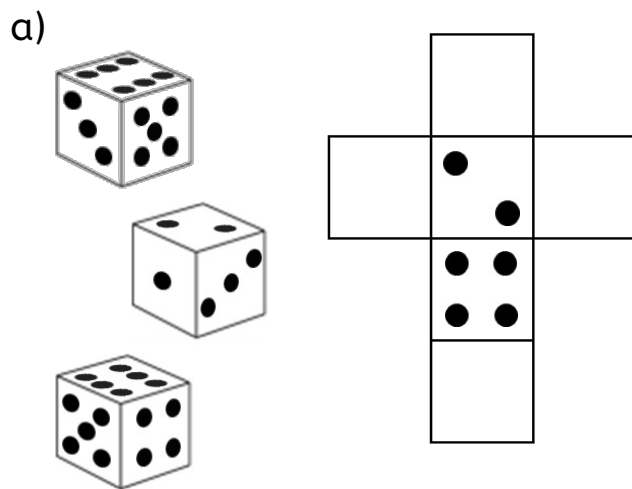


1 Wie sehen die Körper von oben aus? Ordne zu.

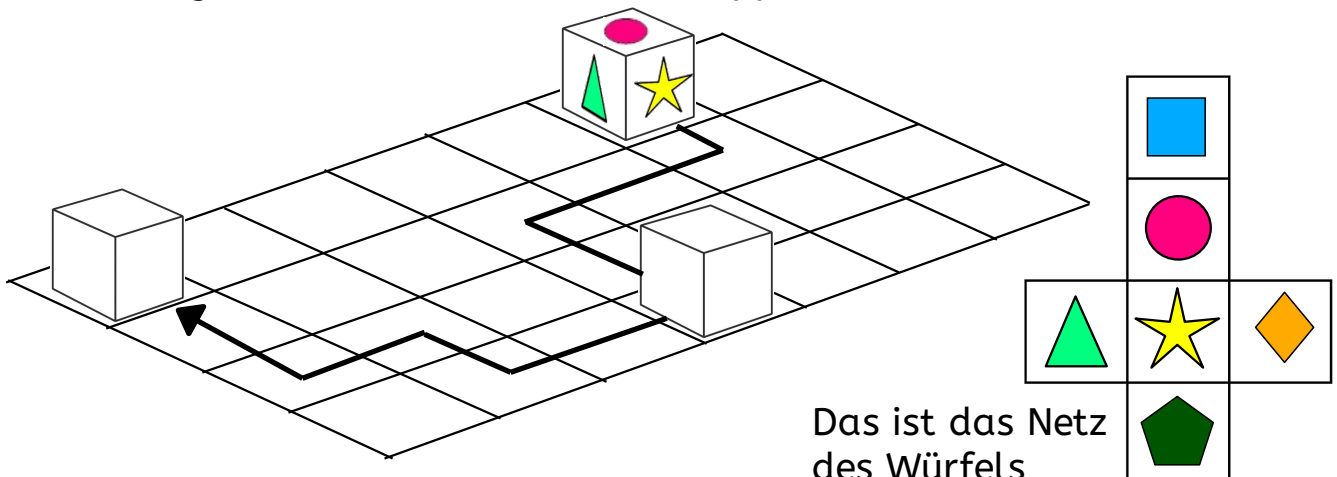


**BONUSAUFGABE:** Wie heißen die Körper? Schreibe die Namen dazu.

2 Du siehst den gleichen Würfel von unterschiedlichen Seiten. Wie sieht sein Netz aus? Ergänze die Symbole.



3 Der Würfel wird entlang des Pfeils gekippt. Welche Symbole zeigt der Würfel an den zwei Stopps? Zeichne sie ein.



1 Wie sehen die Körper von oben aus? Ordne zu.

Zylinder
Quader
Pyramide
Prisma
Kegel
Zylinder

**BONUSAUFGABE:** Wie heißen die Körper? Schreibe die Namen dazu.

2 Du siehst den gleichen Würfel von unterschiedlichen Seiten. Wie sieht sein Netz aus? Ergänze die Symbole.

a)

b)

3 Der Würfel wird entlang des Pfeils gekippt. Welche Symbole zeigt der Würfel an den zwei Stopps? Zeichne sie ein.

Das ist das Netz des Würfels