

Name: \_\_\_\_\_

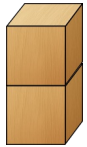
Datum: \_\_\_\_\_

Kl.1

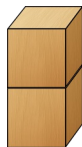
1 Größer, kleiner oder gleich?



=



2 > 1



○



○

2

1 ○ 4

4 ○ 1

3 ○ 5

5 ○ 3

4 ○ 3

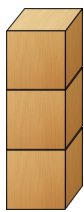
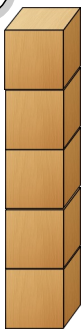
5 ○ 5

5 ○ 2

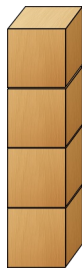
0 ○ 4

0 ○ 5

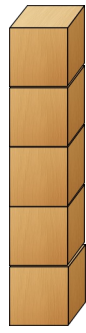
3



○



○



○

4

10 ○ 9

10 ○ 7

1 ○ 5

6 ○ 8

0 ○ 9

7 ○ 4

2 ○ 0

8 ○ 8

5 ○ 10

Diese Aufgaben waren für mich:

