


Name: \_\_\_\_\_

Datum: \_\_\_\_\_

Klasse: \_\_\_\_\_


## Zeit Zeit Zeit

Wie spät ist es? Verwende die Zeiten der zweiten Tageshälfte!



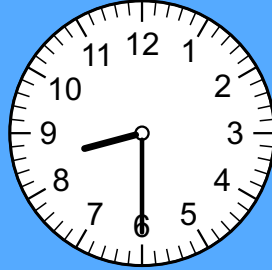
12:00

Uhr




10:30

Uhr



8:30

Uhr



12:30

Uhr

Wie spät ist es? Verwende die Zeiten der ersten Tageshälfte!




13:00

Uhr



8:00

Uhr



15:30


Uhr



17:30


Uhr

Wie spät ist es? Schreibe beide Uhrzeiten auf!




2:00

Uhr




4:00

Uhr



5:00

Uhr



4:30

Uhr

14:00

Uhr

16:00

Uhr

17:00

Uhr

16:30

Uhr