

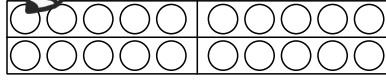
Name: _____

Datum: _____

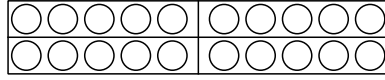
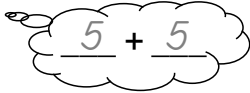
Tägliche Übung: Zehnerübergang - Plusaufgaben



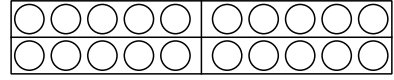
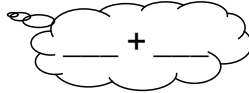
Welche Aufgabe hilft dir?



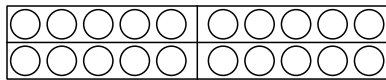
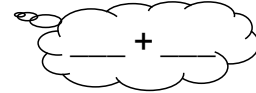
$$5 + 6 = 11$$



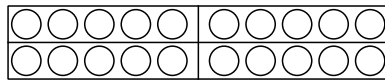
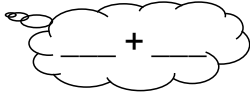
$$7 + 8 = \underline{\quad}$$



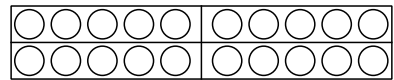
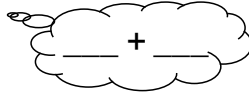
$$7 + 6 = \underline{\quad}$$




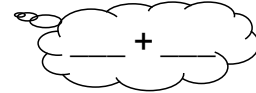
$$8 + 9 = \underline{\quad}$$



$$6 + 5 = \underline{\quad}$$



$$8 + 7 = \underline{\quad}$$



Erstellt auf Basis von Materialien der Ernst Klett Verlag GmbH, die diese ausschließlich zum Bearbeiten für eigene Unterrichtszwecke zur Verfügung stellt. Das vollständige oder teilweise Löschen dieser Angaben ist aus urheberrechtlichen Gründen untersagt.
Autor: Uwe Neiß

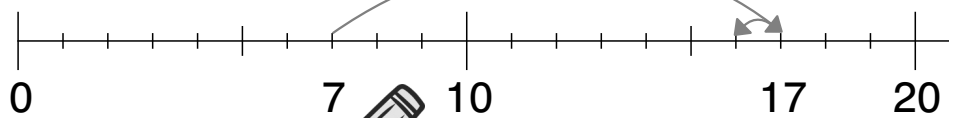
Name: _____

Datum: _____

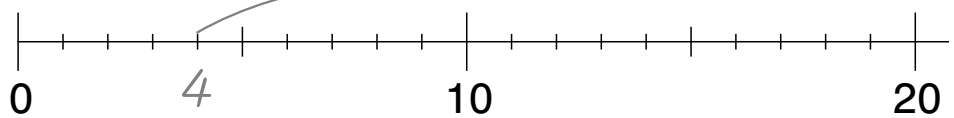
Tägliche Übung: Zehnerübergang - Plusaufgaben



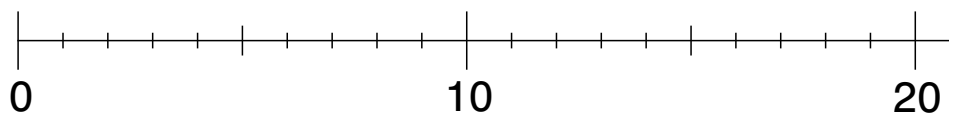
$$7 + 9 = \underline{\quad}$$




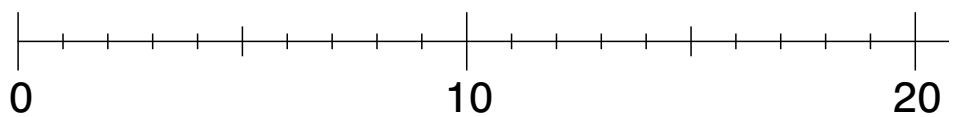
$$4 + 9 = \underline{\quad}$$



$$6 + 9 = \underline{\quad}$$



$$8 + 9 = \underline{\quad}$$



Erstellt auf Basis von Materialien der Ernst Klett Verlag GmbH, die diese ausschließlich zum Bearbeiten für eigene Unterrichtszwecke zur Verfügung stellt. Das vollständige oder teilweise Löschen dieser Angaben ist aus urheberrechtlichen Gründen untersagt.
Autor: Uwe Neiß